




# Qui est l'intrus ?

Pour chaque carte, il faut retrouver la fraction correspondant au nombre décimal.


L'intrus est le nombre restant. Il faudra le noter sur la carte-réponse.

Les fractions décimales 			
	$\frac{2}{10}$	$\frac{3}{100}$	0,07
$\frac{7}{100}$	0,7	0,1	$\frac{1}{10}$
0,03	$\frac{5}{10}$	0,02	0,5
$\frac{7}{10}$	$\frac{2}{100}$	0,2	$\frac{4}{10}$


## Les fractions décimales

	$\frac{2}{10}$	$\frac{3}{100}$	0,07
$\frac{7}{100}$	0,7	0,1	$\frac{1}{10}$
0,03	$\frac{5}{10}$	0,02	0,5
$\frac{7}{10}$	$\frac{2}{100}$	0,2	$\frac{4}{10}$


## Les fractions décimales

	0,8	0,32	$\frac{35}{100}$
0,91	$\frac{27}{100}$	$\frac{6}{10}$	0,6
0,27	0,2	$\frac{91}{100}$	$\frac{2}{10}$
$\frac{8}{10}$	$\frac{9}{10}$	0,35	0,9


## Les fractions décimales B3

	0,4	0,42	$\frac{7}{10}$
0,27	$\frac{53}{100}$	1,9	2,7
0,53	$\frac{42}{100}$	$\frac{27}{10}$	$\frac{72}{100}$
$\frac{19}{10}$	0,42	$\frac{4}{10}$	0,7


## Les fractions décimales B4

	0,27	0,36	$\frac{2}{10}$
$\frac{27}{100}$	6,3	$\frac{63}{100}$	4,5
0,2	$\frac{83}{10}$	0,45	$\frac{63}{10}$
8,3	$\frac{36}{100}$	$\frac{45}{10}$	0,63


## Les fractions décimales B5

	0,72	$\frac{69}{100}$	0,61
$\frac{57}{100}$	$\frac{61}{10}$	0,57	$\frac{37}{10}$
$\frac{18}{100}$	0,4	$\frac{4}{10}$	$\frac{42}{100}$
3,7	$\frac{72}{100}$	0,18	0,69


## Les fractions décimales B6

	$\frac{36}{10}$	$\frac{57}{100}$	1,2
0,5	$\frac{23}{100}$	2,3	$\frac{12}{10}$
$\frac{5}{10}$	3,6	$\frac{23}{10}$	0,57
0,23	$\frac{82}{100}$	0,82	0,12


## Les fractions décimales B7

	0,3	5,6	$\frac{4}{100}$
2,7	$\frac{27}{100}$	$\frac{27}{10}$	7,2
$\frac{72}{10}$	$\frac{3}{10}$	5,7	$\frac{56}{10}$
$\frac{57}{100}$	0,27	0,04	0,57


## Les fractions décimales B9

	$\frac{43}{100}$	0,5	0,57
$\frac{63}{10}$	2,7	$\frac{27}{100}$	$\frac{5}{10}$
$\frac{57}{100}$	$\frac{27}{10}$	0,43	$\frac{75}{10}$
6,3	7,5	4,3	0,27

## Les fractions décimales B8

	$\frac{92}{10}$	0,6	$\frac{47}{10}$
$\frac{36}{100}$	0,36	$\frac{6}{10}$	2,7
$\frac{27}{10}$	0,81	$\frac{81}{100}$	$\frac{30}{10}$
4,7	$\frac{47}{100}$	3	9,2

## Les fractions décimales B10

	0,27	7,3	$\frac{10}{10}$
$\frac{27}{100}$	5,6	$\frac{27}{10}$	$\frac{39}{100}$
$\frac{73}{10}$	8,5	3,9	0,39
1	$\frac{56}{10}$	2,7	$\frac{85}{100}$

# Cartes réponses des élèves

## Les fractions décimales

B1	B2	B3	B4	B5
B6	B7	B8	B9	B10

## Les fractions décimales

B1	B2	B3	B4	B5
B6	B7	B8	B9	B10

## Les fractions décimales

B1	B2	B3	B4	B5
B6	B7	B8	B9	B10

## Les fractions décimales

B1	B2	B3	B4	B5
B6	B7	B8	B9	B10